

ANTİKOR

TARİH


**MODÜLER - FASİKÜLLÜ
YENİ NESİL SORU BANKASI**


LEYLA BİLİCAN ÇELİK

**11. SINIF SORU
BANKASI**

**1. ÜNİTE: DEĞİŞEN DÜNYA
DENGELERİ KARŞISINDA
OSMANLI SİYASETİ
(1595-1774)**

**1.
FASİKÜL**

 0(507) 629 52 95

 antikor_yayinlari

www.fonyayincilik.com.tr

1. FASİKÜL

ANTİKOR TARİH 11. SINIF SORU BANKASI

1. ÜNİTE: DEĞİŞEN DÜNYA DENGELERİ KARŞISINDA OSMANLI SİYASETİ (1595-1774)

1.1. 1595-1700 Yılları Arasında Siyasi Gelişmeler (Test 1)	1
1.2. Uzun Savaşlardan Diplomasiye (Test 2 - 6)	3
1.3. Avrupa'da Din Savaşlarından Modern Devlete (Test 7 - 10)	13
1.4. XVII. ve XVIII. Yüzyıllarda Osmanlı Devleti'nde ve Avrupa'da Denizcilik Faaliyetleri (Test 11 - 12) ..	21
1.5. Fetihlerden Savunmaya (Test 13 - 17)	25
1. Dönem 1. Yazılı Soruları	35



DEĞİŞEN DÜNYA DENGELERİ KARŞISINDA OSMANLI SİYASETİ (1595-1774)

1.

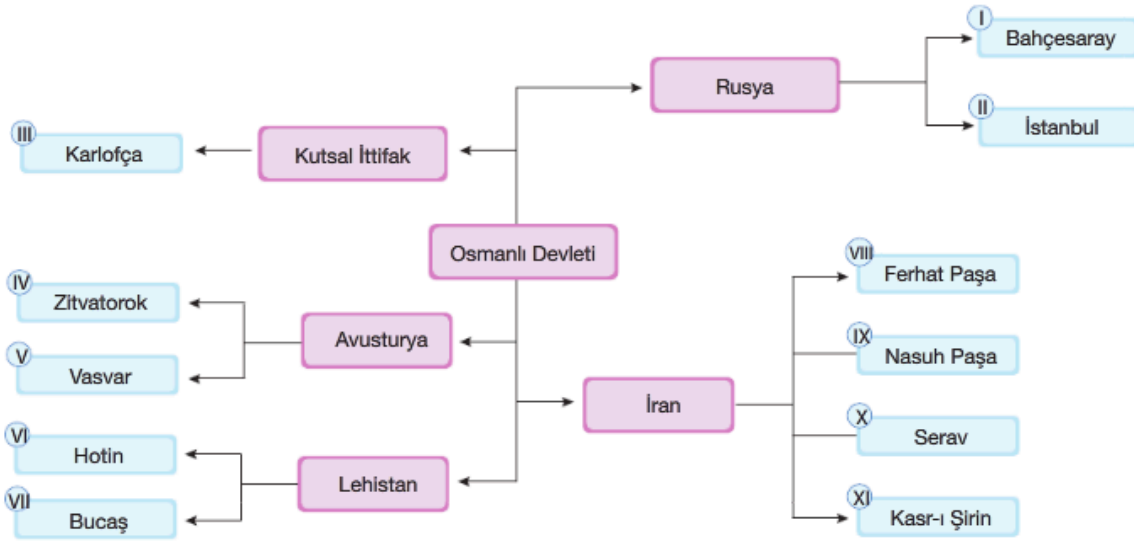
Ünite

TEST

1

1.1. 1595-1700 YILLARI ARASINDA SİYASİ GELİŞMELER

Osmanlı Devleti'nin XVII. yüzyılda imzaladığı antlaşmaları gösteren kavram haritası doğrultusunda 1 ve 2. soruları cevaplayınız.



ANTİKOR

1. Kavram haritasından hareketle Osmanlı Devleti ile ilgili;

- XVII. yüzyılda en uzun mücadele İran ile yaşanmıştır.
- Osmanlı Devleti Avusturya ve İran ile aynı anda mücadele etmek zorunda kalmıştır.
- XVII. yüzyılda Osmanlı Devleti'ne karşı, batıda din birleştirici güç olmuştur.

yargılarından hangilerine ulaşılabilir?

- A) Yalnız I B) Yalnız II C) Yalnız III
D) I ve II E) II ve III

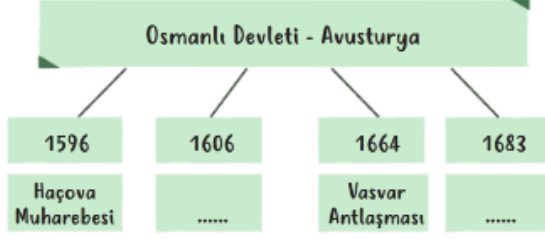
2.

- Osmanlı Devleti'nin Avusturya karşısında diplomatik üstünlüğünü kaybettiği antlaşmadır.
- Günümüz Türk-İran sınırının büyük ölçüde çizildiği antlaşmadır.
- Osmanlı Devleti'nin batıda ilk büyük toprak kaybını yaşadığı antlaşmadır.

Özellikleri verilen antlaşmaların, sırasıyla kavram haritasında hangi numaralarla gösterildiği söylenebilir?

- A) IV - XI - III B) III - VIII - VI
C) V - X - II D) III - IX - I
E) IV - XI - V

3.



Yukarıdaki tabloda boş bırakılan yerlere sırasıyla hangileri getirilmelidir?

- A) İstanbul Antlaşması - II. Viyana Kuşatması
 B) Zıtvatorok Antlaşması - II. Viyana Kuşatması
 C) Bucaş Antlaşması - Karlofça Antlaşması
 D) Hotin Antlaşması - Karlofça Antlaşması
 E) II. Viyana Kuşatması - Karlofça Antlaşması

4.

- I. Bucaş Antlaşması
 • Osmanlı Devleti'nin Batıda en geniş sınırlarına ulaştığı antlaşmadır.
- II. Ferhat Paşa Antlaşması
 • Osmanlı Devleti ile Safeviler arasında imzalanan ilk antlaşmadır.
- III. Kasr-ı Şirin Antlaşması
 • Osmanlı Devleti ve Safevi Devleti arasında imzalanmış, Zağros Dağları iki ülke arasında sınır kabul edilmiştir.
- IV. II. Viyana Kuşatması
 • Osmanlı Devleti'nin Avusturya karşısındaki üstünlük kazanmasına neden olmuştur.

Yukarıda verilen olaylar ve özelliklerinden hangilerinin doğru olduğu söylenemez?

- A) I ve II B) III ve IV C) I ve III
 D) II ve IV E) II, III ve IV

5.

- I. Bucaş Antlaşması
 II. Nasuh Paşa Antlaşması
 III. Kasr-ı Şirin Antlaşması
 IV. Girit'in Fethi
 V. Karlofça Antlaşması

XVII. yüzyılda meydana gelen yukarıdaki gelişmelerin kronolojik sıralaması aşağıdakilerden hangisinde doğru olarak verilmiştir?

- A) II, III, IV, I, V B) I, II, IV, V, III
 C) III, II, V, I, IV D) I, III, V, II, I
 E) I, II, III, IV, V

6.

1533 İstanbul Antlaşması	1606 Zıtvatorok Antlaşması
<ul style="list-style-type: none"> Avusturya Osmanlı Devleti'ne her yıl vergi verecek. Avusturya Kralı, Osmanlı Sadrazamına denk sayılacak. 	<ul style="list-style-type: none"> Avusturya bir defaya mahsus Osmanlı Devleti'ne vergi verecek. Osmanlı Padişahı - Avusturya Kralına denk sayılacak.

Tabloya göre aşağıdakilerden hangisine kesin olarak ulaşılabılır?

- A) Osmanlı Devleti Avusturya karşısında siyasi üstünlüğünü kaybetmiştir.
 B) Osmanlı XVII. yüzyılda Avusturya karşısında ekonomik anlamda güç kazanmıştır.
 C) İstanbul Antlaşması mütekabiliyet anlayışının ön planda olduğu bir antlaşmadır.
 D) Osmanlı Devleti XV. yüzyılda, XVII. yüzyıla göre daha güçlü bir konumdadır.
 E) Avusturya, Zıtvatorok Antlaşması'yla Osmanlı Devleti'ne karşı siyasi üstünlük kazanmıştır.

7.

Osmanlı Devleti doğuda en geniş sınırlarına aşağıdaki antlaşmalardan hangisiyle ulaşmıştır?

- A) Nasuh Paşa Antlaşması
 B) Bucaş Antlaşması
 C) Vasvar Antlaşması
 D) Serav Antlaşması
 E) Ferhat Paşa Antlaşması

8.



Osmanlı Devleti'nin XVII. yüzyılda yukarıdaki devletlerden hangisiyle savaştığı söylenemez?

- A) I B) II C) III D) IV E) V

ANTİKOR BİLGİ

Osmanlı Devleti XVII. yüzyılda fetih siyasetini devam ettirerek, doğuda ve batıda en geniş sınırlarına ulaşmıştır.


1.2. UZUN SAVAŞLARDAN DİPLOMASİYE

1.

Devletlerarası ilişkilerde maruz kalınan davranışa aynı şekilde karşılık verme prensibi, karşılıklı olma durumu

Kavramlarla ilgili bilgi kartları hazırlayan Çiğdem Öğretmen kartların bir yüzüne kavramı diğer yüzüne ise kavramın açıklamasını yazmıştır.

Yukarıdaki bilgi kartının diğer yüzünün görüntüsü aşağıdakilerden hangisidir?



2.

Rusya'nın İstanbul'da daimi elçi bulundurma hakkı kazandığı antlaşmadır.

Bağdat'ın Osmanlı Devleti'nde kaldığı, Revan'ın Safevilere bırakıldığı antlaşmadır.

Osmanlı Devleti'nin Avusturya karşısında diplomatik üstünlüğünü kaybettiği antlaşmadır.

Erdel'deki Türk hakimiyetinin onaylandığı antlaşmadır.

Osmanlı Devleti'nin XVII. yüzyılda imzaladığı antlaşmalara ait yukarıdaki bilgiler, aşağıdaki antlaşmalara eşleştirildiğinde hangisi dışarıda kalır?

- A) Vasvar Antlaşması
- B) Zitvatorok Antlaşması
- C) İstanbul Antlaşması
- D) Bucaş Antlaşması
- E) Kasr-ı Şirin Antlaşması

3. Karlofça Antlaşması ile ilk defa Avrupalı devletlerin arabuluculuğunu kabul eden Osmanlı Devleti ilk kez müzakere yoluyla bir antlaşma imzalamak zorunda kalmıştır. Antlaşma ile ilk büyük toprak kaybını yaşayan Osmanlı Devleti savunma dönemine girmiştir.


Bu bilgiler doğrultusunda Osmanlı Devleti ile ilgili;

- I. Önemli bir itibar kaybı yaşamıştır.
- II. Taarruz gücünü kaybetmiştir.
- III. Kendi şartlarını kabul ettiren devlet olma özelliğini yitirmiştir.

yargılarından hangilerine ulaşılabilir?

- A) Yalnız I
- B) I ve II
- C) I ve III
- D) II ve III
- E) I, II ve III

4.



"?" yerine aşağıdakilerden hangisi gelmelidir?

- A) II. Viyana Kuşatması
- B) Haçova Meyden Muharebesi
- C) Vasvar Antlaşması
- D) Zitvatorok Antlaşması
- E) Hotin Savaşı

5. Osmanlı Devleti'nin XVII. yüzyılda mücadele ettiği devletlerden birisi de Venedik'tir. Venedik yönetimindeki Girit'te korsanlık faaliyetlerinin artması üzerine Osmanlı donanmasının 1645'te kuşattığı Girit 1669'da Osmanlı yönetimine geçmiştir.

Buna göre;

- I. Osmanlı Devleti'nin Akdeniz hakimiyeti güçlenmiştir.
- II. Kuşatmanın 24 yıl sürmesi Osmanlı Devleti'nin donanma gücünün zayıfladığının göstergesidir.
- III. Venedik, Osmanlı Devleti'ne üstünlüğünü kabul ettirmiştir.

yargılarından hangilerine ulaşılabilir?

- A) Yalnız I
- B) I ve II
- C) I ve III
- D) II ve III
- E) I, II ve III

ANTİKOR